



Сурагчийн нэр:

Эхэлсэн: он сар өдөр



Биетийн эзлэхүүнийг хэмжихдээ (куб) шоо хэрэглэнэ.
Эзлэхүүнийг хэмжих нэгж нь 1 см.куб, 1 дм.куб, 1 м.куб, 1 км.куб



1 Биетийн эзлэхүүнийг хэмжээг бичээрэй.

а.




1 (шоо)

б.




_____ (шоо)

в.



_____ (шоо)

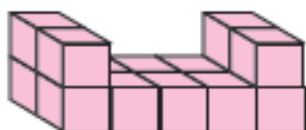
г.



_____ (шоо)

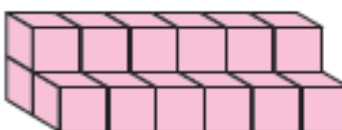
2 Биетийн эзлэхүүнийг хялбар аргаар тооцоолоорой.

а.



_____ (шоо)


б.



_____ (шоо)

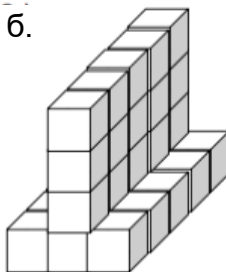
3 Биетийн эзлэхүүнийг бичээрэй.

а.



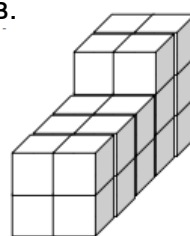
_____ шоо

б.



_____ шоо

в.

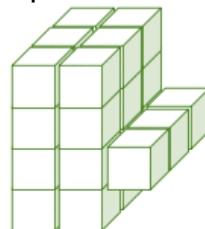


_____ шоо

4 Биетийн эзлэхүүнийг куб сантиметрээр илэрхийлж бичээрэй.







Дууссан:сарөдөр



Даалгавар	1	2	3	4
Өөрийн үнэлгээ	😊	😊	😊	😊



Сурагчийн нэр:

Эхэлсэн: он сар өдөр

Биетийн эзлэхүүнийг хэмжихдээ (куб) шоо хэрэглэнэ.
Эзлэхүүнийг хэмжих нэгж нь 1 см.куб, 1 дм.куб, 1 м.куб, 1 км.куб

1 Биетийн эзлэхүүний хэмжээг бичээрэй.

а.



1 (см.куб)

б.



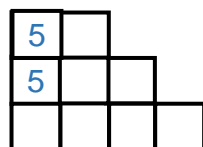
_____ (см.куб)



в.

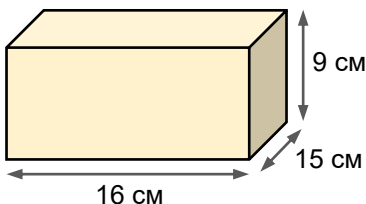


_____ (см.куб)


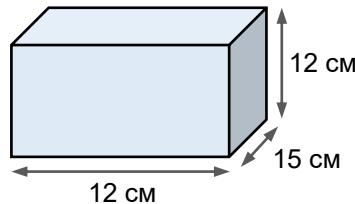


2 Биетийн эзлэхүүний хэмжээг бичээрэй.


а.




б.



3 Урт нь 5 см, өргөн нь 3 см, өндөр нь 4 см байх параллелепипедийн эзлэхүүний хэмжээг олоорой.



4 Ирмэг нь 10см байх кубийн эзлэхүүний хэмжээг олоорой.



5 Зүй тогтлыг ажиглаад тохирох тоог бичээрэй.

1 см.куб, 1 дм.куб, 1 м.куб, 1 см.куб,,,

Дууссан:сарөдөр



Даалгавар	1	2	3	4	5
Өөрийн үнэлгээ					



Сурагчийн нэр:

Эхэлсэн: он сар өдөр



Параллелепипедийн эзлэхүүн нь түүний урт, өргөн, өндрийн хэмжээсүүдийг үржүүлсэнтэй тэнцүү байдаг.

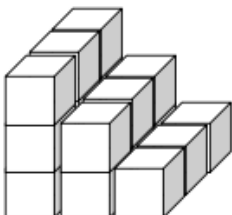
- 1 Урт нь 5 см, өргөн нь 2 см, эзлэхүүний хэмжээ нь 30 см.куб байх параллелепипедийн өндрийн хэмжээг олоорой.

- 2 Өндөр нь 2 м, өргөн нь 4 м зоорийн эзлэхүүний хэмжээ нь 40 м.куб бол зоорийн уртын хэмжээг олоорой.

- 3 Өргөн нь 5 м, урт нь 3 м зоорийн эзлэхүүний хэмжээ нь 45 м.куб бол зоорийн гүнийн хэмжээг олоорой.

- 4 Кубийн эзлэхүүний хэмжээ 27 см.куб ирмэгийн хэмжээг олоорой.

- 5 Дараах шоонуудаар ямар ямар хэмжээтэй биет өрж болохыг бичээрэй.



Дууссан:сарөдөр

Даалгавар	1	2	3	4	5
Өөрийн үнэлгээ	☺	☺	☺	☺	☺